

2

ಒಟ್ಟು ಮುದ್ರಿತ ಪುಟಗಳ ಸಂಖ್ಯೆ : 16 ]

Total No. of Printed Pages : 16 ]

ಒಟ್ಟು ಪ್ರಶ್ನೆಗಳ ಸಂಖ್ಯೆ : 48 ]

Total No. of Questions : 48 ]

ಸಂಕೇತ ಸಂಖ್ಯೆ : **83-K**

Code No. : **83-K**

**D**

**CCE PR  
UNREVISED  
REDUCED SYLLABUS  
NSR & NSPR**

Question Paper Serial No. **813**

ವಿಷಯ : **ವಿಜ್ಞಾನ**

**Subject : SCIENCE**

(ಭೌತ ವಿಜ್ಞಾನ, ರಸಾಯನ ವಿಜ್ಞಾನ ಮತ್ತು ಜೀವ ವಿಜ್ಞಾನ / Physics, Chemistry & Biology)

(ಕನ್ನಡ ಮಾಧ್ಯಮ / Kannada Medium)

(ಪುನರಾವರ್ತಿತ ಖಾಸಗಿ ಅಭ್ಯರ್ಥಿ / ಎನ್.ಎಸ್.ಆರ್. & ಎನ್.ಎಸ್.ಪಿ.ಆರ್.)

(Private Repeater / NSR & NSPR)

ದಿನಾಂಕ : 13. 06. 2023 ]

[ Date : 13. 06. 2023

ಸಮಯ : ಬೆಳಿಗ್ಗೆ 10-30 ರಿಂದ ಮಧ್ಯಾಹ್ನ 1-45 ರವರೆಗೆ ]

[ Time : 10-30 A.M. to 1-45 P.M.

ಗರಿಷ್ಠ ಅಂಕಗಳು : 100 ]

[ Max. Marks : 100

**ಪರೀಕ್ಷಾರ್ಥಿಗಾಗಿ ಸಾಮಾನ್ಯ ಸೂಚನೆಗಳು :**

1. ಈ ಪ್ರಶ್ನೆಪತ್ರಿಕೆಯಲ್ಲಿ ಭಾಗ-A : ಭೌತ ವಿಜ್ಞಾನ, ಭಾಗ-B : ರಸಾಯನ ವಿಜ್ಞಾನ, ಭಾಗ-C : ಜೀವ ವಿಜ್ಞಾನ ಎಂಬ ಮೂರು ಭಾಗಗಳಿವೆ.
2. ಈ ಪ್ರಶ್ನೆಪತ್ರಿಕೆಯು ವಸ್ತುನಿಷ್ಠ ಮತ್ತು ವಿಷಯನಿಷ್ಠ ಮಾದರಿಯ ಒಟ್ಟು 48 ಪ್ರಶ್ನೆಗಳನ್ನು ಹೊಂದಿದೆ.
3. ಈ ಪ್ರಶ್ನೆಪತ್ರಿಕೆಯನ್ನು ಹಿಮ್ಮುಖ ಜಾಕೆಟ್ ಮೂಲಕ ಮೊಹರು (ಸೀಲ್) ಮಾಡಲಾಗಿದೆ. ಪರೀಕ್ಷೆ ಪ್ರಾರಂಭವಾಗುವ ಸಮಯಕ್ಕೆ ನಿಮ್ಮ ಪ್ರಶ್ನೆಪತ್ರಿಕೆಯ ಬಲಬದಿ ಪಾರ್ಶ್ವವನ್ನು ಕತ್ತರಿಸಿ, ಪ್ರಶ್ನೆಪತ್ರಿಕೆಯಲ್ಲಿ ಎಲ್ಲಾ ಪುಟಗಳು ಇವೆಯೇ ಎಂದು ಪರೀಕ್ಷಿಸಿಕೊಳ್ಳಿ.
4. ವಸ್ತುನಿಷ್ಠ ಮತ್ತು ವಿಷಯನಿಷ್ಠ ಮಾದರಿಯ ಪ್ರಶ್ನೆಗಳಿಗೆ ಕೊಟ್ಟಿರುವ ಸೂಚನೆಗಳನ್ನು ಪಾಲಿಸಿ.
5. ಬಲ ಭಾಗದಲ್ಲಿ ಕೊಟ್ಟಿರುವ ಅಂಕಗಳು ಪ್ರಶ್ನೆಗಳಿಗಿರುವ ಪೂರ್ಣ ಅಂಕಗಳನ್ನು ತೋರಿಸುತ್ತವೆ.
6. ಪ್ರಶ್ನೆಪತ್ರಿಕೆಯನ್ನು ಓದಿಕೊಳ್ಳಲು 15 ನಿಮಿಷಗಳ ಕಾಲಾವಕಾಶವು ಸೇರಿದಂತೆ, ಉತ್ತರಿಸಲು ನಿಗದಿಪಡಿಸಲಾದ ಸಮಯವನ್ನು ಪ್ರಶ್ನೆಪತ್ರಿಕೆಯ ಮೇಲ್ಭಾಗದಲ್ಲಿ ನೀಡಲಾಗಿದೆ.

**CCE-PR/NSR & NSPR-D(813)4109**

[ Turn over

ಇಲ್ಲಿಂದ ಕತ್ತರಿಸಿ

TEAR HERE TO OPEN THE QUESTION PAPER  
ಪ್ರಶ್ನೆಪತ್ರಿಕೆಯನ್ನು ತೆರೆಯಲು ಇಲ್ಲಿ ಕತ್ತರಿಸಿ




Tear here

## ಭಾಗ - A

## ( ಭೌತ ವಿಜ್ಞಾನ )

- I. ಕೆಳಗಿನ ಪ್ರಶ್ನೆಗಳಿಗೆ ಅಥವಾ ಅಪೂರ್ಣ ಹೇಳಿಕೆಗಳಿಗೆ ನಾಲ್ಕು ಪರ್ಯಾಯ ಉತ್ತರಗಳನ್ನು ನೀಡಲಾಗಿದೆ. ಅವುಗಳಲ್ಲಿ ಸೂಕ್ತವಾದ ಒಂದು ಉತ್ತರವನ್ನು ಆರಿಸಿ, ಅದರ ಕ್ರಮಾಕ್ಷರದೊಡನೆ ಪೂರ್ಣ ಉತ್ತರವನ್ನು ಬರೆಯಿರಿ :

4 × 1 = 4

1. ವಿದ್ಯುತ್‌ಶಕ್ತಿಯನ್ನು ಯಾಂತ್ರಿಕ ಶಕ್ತಿಯನ್ನಾಗಿ ಪರಿವರ್ತಿಸುವ ಸಾಧನ 
- (A) ವಿದ್ಯುತ್‌ಜನಕ (B) ವಿದ್ಯುತ್ ಮೋಟಾರ್
- (C) ಗ್ಯಾಲವಾನೋಮೀಟರ್ (D) ವೋಲ್ಟ್‌ಮೀಟರ್
2. ಸೀಮೆ ಎಣ್ಣೆಯಲ್ಲಿ ಚಲಿಸುತ್ತಿರುವ ಬೆಳಕಿನ ಒಂದು ಕಿರಣವು ಓರೆಯಾಗಿ ನೀರನ್ನು ಪ್ರವೇಶಿಸುತ್ತದೆ. ಆ ಬೆಳಕಿನ ಕಿರಣವು
- [ ಸೀಮೆ ಎಣ್ಣೆಯ ವಕ್ರೀಭವನ ಸೂಚ್ಯಂಕ 1.44  
ನೀರಿನ ವಕ್ರೀಭವನ ಸೂಚ್ಯಂಕ 1.33 ]
- (A) ಲಂಬದ ಕಡೆಗೆ ಬಾಗುತ್ತದೆ 
- (B) ಬಾಗುವುದಿಲ್ಲ
- (C) ಲಂಬದ ಮೂಲಕ ಸಾಗುತ್ತದೆ
- (D) ಲಂಬದಿಂದ ದೂರ ಬಾಗುತ್ತದೆ
3. ಟರ್ಬೈನ್‌ಗಳನ್ನು ಉಪಯೋಗಿಸದೇ ವಿದ್ಯುತ್ ಅನ್ನು ಉತ್ಪಾದಿಸುವ ವಿದ್ಯುತ್ ಸ್ಥಾವರ 
- (A) ಉಷ್ಣ ವಿದ್ಯುತ್ ಸ್ಥಾವರ (B) ಜಲವಿದ್ಯುತ್ ಸ್ಥಾವರ
- (C) ಸೌರವಿದ್ಯುತ್ ಸ್ಥಾವರ (D) ಪರಮಾಣು ವಿದ್ಯುತ್ ಸ್ಥಾವರ

4. ಬಲಗೈ ಹೆಬ್ಬರಳ ನಿಯಮದಂತೆ ವಿದ್ಯುತ್ ಹರಿಯುತ್ತಿರುವ ನೇರ ವಾಹಕತಂತಿಯನ್ನು ಹೆಬ್ಬರಳು ಮೇಲ್ಮುಖವಾಗಿರುವಂತೆ ಹಿಡಿದಿರುವಿರಿ ಎಂದು ಭಾವಿಸಿ. ಆಗ ಕಾಂತಕ್ಷೇತ್ರದ ಕಾಂತೀಯ ಬಲರೇಖೆಗಳ ದಿಕ್ಕು



- (A) ಕೆಳಮುಖವಾಗಿರುತ್ತದೆ (B) ಮೇಲ್ಮುಖವಾಗಿರುತ್ತದೆ  
(C) ಅಪ್ರದಕ್ಷಿಣಾಕಾರವಾಗಿರುತ್ತದೆ (D) ಪ್ರದಕ್ಷಿಣಾಕಾರವಾಗಿರುತ್ತದೆ

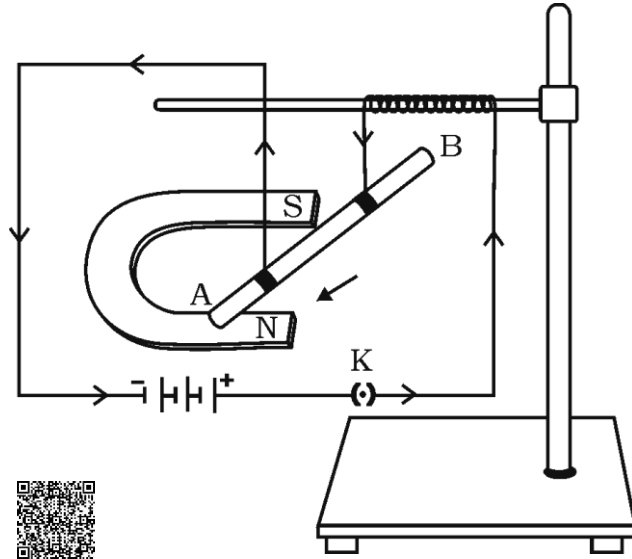
II. ಈ ಕೆಳಗಿನ ಪ್ರಶ್ನೆಗಳಿಗೆ ಉತ್ತರಿಸಿ :

2 × 1 = 2

5. ವಿದ್ಯುತ್‌ಮಂಡಲದಲ್ಲಿ ಉಪಯೋಗಿಸುವ ರಿಯೋಸ್ಟಾಟ್‌ನ ಚಿಹ್ನೆಯ ಚಿತ್ರವನ್ನು ಬರೆಯಿರಿ.



6. ಚಿತ್ರವನ್ನು ಗಮನಿಸಿ ಮತ್ತು ವಿದ್ಯುತ್‌ಪ್ರವಾಹವಿರುವ ತಂತಿ AB ಯ ಮೇಲೆ ವರ್ತಿಸುವ ಬಲದ ದಿಕ್ಕನ್ನು ತಿಳಿಸಿ. ಬಲದ ದಿಕ್ಕನ್ನು ತಿಳಿಯಲು ನಿಮಗೆ ನೆರವಾದ ನಿಯಮವನ್ನು ಹೆಸರಿಸಿ.



## III. ಈ ಕೆಳಗಿನ ಪ್ರಶ್ನೆಗಳಿಗೆ ಉತ್ತರಿಸಿ :

5 × 2 = 10

7. ನ್ಯೂಕ್ಲಿಯ ಶಕ್ತಿಯ ಯಾವುದಾದರೂ ಎರಡು ಅನುಕೂಲಗಳನ್ನು ಬರೆಯಿರಿ.
8. 5 Ω ರೋಧಕದಲ್ಲಿ ಪ್ರತಿ 2 ಸೆಕೆಂಡಿಗೆ 1000 J ಉಷ್ಣಶಕ್ತಿ ಉತ್ಪತ್ತಿಯಾಗುತ್ತಿದೆ. ರೋಧಕದ ನಡುವಿನ ವಿಭವಾಂತರವನ್ನು ಕಂಡುಹಿಡಿಯಿರಿ.



## ಅಥವಾ

ಉದ್ದ 'l' ಮತ್ತು ಅಡ್ಡಕೊಯ್ದದ ವಿಸ್ತೀರ್ಣ 'A' ಇರುವ ವಾಹಕ ತಂತಿಯ ರೋಧವು '4 Ω' ಆಗಿದೆ. ಅದೇ ರೀತಿಯ ಇನ್ನೊಂದು ವಾಹಕ ತಂತಿಯ ಉದ್ದ ' $\frac{l}{2}$ ' ಮತ್ತು ಅದರ ಅಡ್ಡಕೊಯ್ದದ ವಿಸ್ತೀರ್ಣ '2 A' ಆದಾಗ ಅದರ ರೋಧವನ್ನು ಕಂಡುಹಿಡಿಯಿರಿ.

9. ಓಮ್‌ನ ನಿಯಮವನ್ನು ನಿರೂಪಿಸಿ. ವಾಹಕವೊಂದರ ರೋಧವು ಅವಲಂಬಿಸಿರುವ ಯಾವುದಾದರೂ ಎರಡು ಅಂಶಗಳನ್ನು ಬರೆಯಿರಿ.
10. ಜೈವಿಕ ಅನಿಲವು ಅತ್ಯುತ್ತಮ ಇಂಧನವಾಗಿದೆ ಏಕೆ ?
11. ಒಂದು ಮಸೂರದಿಂದ ಉಂಟಾದ ವರ್ಧನೆ  $m = \frac{1}{3}$  ಆಗಿದೆ. ಹಾಗಾದರೆ ಮಸೂರದ ವಿಧ ಮತ್ತು ಉಂಟಾದ ಪ್ರತಿಬಿಂಬದ ಸ್ವಭಾವ ತಿಳಿಸಿ.



## IV. ಈ ಕೆಳಗಿನ ಪ್ರಶ್ನೆಗಳಿಗೆ ಉತ್ತರಿಸಿ :

3 × 3 = 9

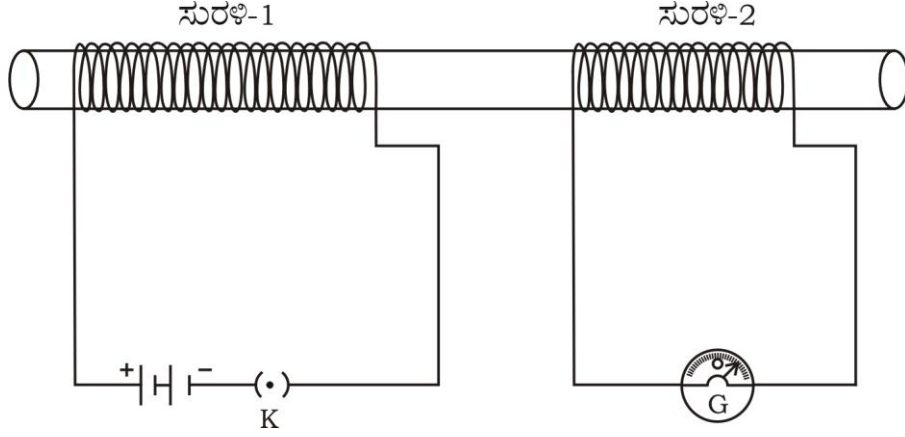
12. ಗೋಳೀಯ ಮಸೂರಕ್ಕೆ ಸಂಬಂಧಿಸಿದಂತೆ ಕೆಳಗಿನ ಪದಗಳ ಅರ್ಥವನ್ನು ನಿರೂಪಿಸಿ.
- i) ದ್ಯುತಿರಂಧ್ರ (ಅಪರ್ಚರ್)
- ii) ವಕ್ರತಾ ಕೇಂದ್ರ
- iii) ದೃಕ್ ಕೇಂದ್ರ

## ಅಥವಾ

- a) ಮಸೂರದ ಸಾಮರ್ಥ್ಯ ಎಂದರೇನು ? ಮಸೂರದ ಸಾಮರ್ಥ್ಯವನ್ನು ಕಂಡುಹಿಡಿಯಲು ಬಳಸುವ ಸೂತ್ರವನ್ನು ಬರೆಯಿರಿ. ಮಸೂರದ ಸಾಮರ್ಥ್ಯದ SI ಏಕಮಾನ ಯಾವುದು ?
- b) 'A' ಮತ್ತು 'B' ಎಂಬ ಎರಡು ಮಸೂರಗಳ ಸಂಗಮದೂರಗಳು ಕ್ರಮವಾಗಿ + 0.50 m ಮತ್ತು - 0.40 m ಆದರೆ, ಅದೇ ಕ್ರಮದಲ್ಲಿ ಅವುಗಳ ವಿಧಗಳನ್ನು ತಿಳಿಸಿ.



13. ಕೊಟ್ಟಿರುವ ಚಿತ್ರವನ್ನು ಗಮನಿಸಿ :



ಈ ಚಿತ್ರಕ್ಕೆ ಸಂಬಂಧಿಸಿದ ಪ್ರಯೋಗವನ್ನು ವಿವರಿಸಿ. ಈ ಪ್ರಯೋಗದಿಂದ ಯಾವ ತೀರ್ಮಾನಗಳನ್ನು ತೆಗೆದುಕೊಳ್ಳಬಹುದು ?



14. ಪೀನಮಸೂರದ  $2F_1$  ನಲ್ಲಿ ವಸ್ತುವನ್ನಿರಿಸಿದಾಗ ಪ್ರತಿಬಿಂಬ ಉಂಟಾಗುವಿಕೆಯನ್ನು ತೋರಿಸುವ ರೇಖಾಚಿತ್ರವನ್ನು ಬರೆಯಿರಿ. ರೇಖಾಚಿತ್ರದ ಸಹಾಯದಿಂದ ಉಂಟಾಗುವ ಪ್ರತಿಬಿಂಬದ ಸ್ಥಾನ ಮತ್ತು ಸ್ವಭಾವಗಳನ್ನು ತಿಳಿಸಿ.

[  $F_1$  : ಮಸೂರದ ಪ್ರಧಾನ ಸಂಗಮ ]

### ಅಥವಾ

ಪೀನಮಸೂರದ  $2F_1$  ಗಿಂತ ದೂರದಲ್ಲಿ ವಸ್ತುವನ್ನಿಟ್ಟಾಗ ಪ್ರತಿಬಿಂಬ ಉಂಟಾಗುವಿಕೆಯನ್ನು ತೋರಿಸುವ ರೇಖಾಚಿತ್ರವನ್ನು ಬರೆಯಿರಿ. ರೇಖಾಚಿತ್ರದ ಸಹಾಯದಿಂದ ಉಂಟಾಗುವ ಪ್ರತಿಬಿಂಬದ ಸ್ಥಾನ ಮತ್ತು ಸ್ವಭಾವಗಳನ್ನು ತಿಳಿಸಿ.

[  $F_1$  : ಮಸೂರದ ಪ್ರಧಾನ ಸಂಗಮ ]



V. ಈ ಕೆಳಗಿನ ಪ್ರಶ್ನೆಗೆ ಉತ್ತರಿಸಿ :

1 × 4 = 4



15. a) 350 W ಸಾಮರ್ಥ್ಯದ ಬ್ರೆಡ್-ಟೋಸ್ಟರ್ ದಿನಕ್ಕೆ 15 ಗಂಟೆಗಳ ಕಾಲ ಬಳಕೆಯಾಗುತ್ತದೆ. 250 W ಸಾಮರ್ಥ್ಯದ ಇಸ್ರಿ ಪೆಟ್ಟಿಗೆ ದಿನಕ್ಕೆ 5 ಗಂಟೆಗಳ ಕಾಲ ಬಳಕೆಯಾಗುತ್ತದೆ. ಈ ಉಪಕರಣಗಳನ್ನು 30 ದಿನಗಳ ಕಾಲ ಬಳಸಿದಾಗ 1 kWh ಗೆ ರೂ. 4 ರಂತೆ ತಗಲುವ ವೆಚ್ಚವನ್ನು ಲೆಕ್ಕಾಚಾರ ಮಾಡಿ.

b)  $R_1$  ಮತ್ತು  $R_2$  ರೋಧಕಗಳನ್ನು ಯಾವ ವಿಧದಲ್ಲಿ ಜೋಡಿಸುವ ಮೂಲಕ ಒಂದು ವಿದ್ಯುತ್‌ಮಂಡಲದ ಸಮಾನರೋಧ ಕಡಿಮೆಯಾಗುತ್ತದೆ ? ಈ ವಿಧದ ಜೋಡಣೆಯಿಂದ ಮಂಡಲದಲ್ಲಿನ ವಿದ್ಯುತ್‌ಪ್ರವಾಹದ ಮೌಲ್ಯದಲ್ಲಿ ಆಗುವ ಬದಲಾವಣೆ ಏನು ?



VI. ಈ ಕೆಳಗಿನ ಪ್ರಶ್ನೆಗೆ ಉತ್ತರಿಸಿ :

1 × 5 = 5

16. a) ಪೀನಮಸೂರದ ಅಂದಾಜು ಸಂಗಮದೂರವನ್ನು ಕಂಡುಹಿಡಿಯುವ ಸರಳ ಚಟುವಟಿಕೆಯನ್ನು ವಿವರಿಸಿ.

b) ಬೆಳಕಿನ ವಕ್ರೀಭವನ ಎಂದರೇನು ? ಬೆಳಕಿನ ವಕ್ರೀಭವನದ ಎರಡು ನಿಯಮಗಳನ್ನು ನಿರೂಪಿಸಿ.



## ಭಾಗ - B

## ( ರಸಾಯನ ವಿಜ್ಞಾನ )

VII. ಕೆಳಗಿನ ಪ್ರಶ್ನೆಗಳಿಗೆ ಅಥವಾ ಅಪೂರ್ಣ ಹೇಳಿಕೆಗಳಿಗೆ ನಾಲ್ಕು ಪರ್ಯಾಯ ಉತ್ತರಗಳನ್ನು ನೀಡಲಾಗಿದೆ. ಅವುಗಳಲ್ಲಿ ಸೂಕ್ತವಾದ ಒಂದು ಉತ್ತರವನ್ನು ಆರಿಸಿ, ಅದರ ಕ್ರಮಾಕ್ಷರದೊಡನೆ ಪೂರ್ಣ ಉತ್ತರವನ್ನು ಬರೆಯಿರಿ :



2 × 1 = 2

17. ಮೆಂಡಲೀವ್‌ರವರ ಆವರ್ತಕ ಕೋಷ್ಟಕವು ಈ ಆಧಾರದ ಮೇಲೆ ರಚಿತವಾಗಿದೆ



- (A) ಪರಮಾಣು ಸಂಖ್ಯೆ  
 (B) ಪರಮಾಣುವಿನ ಇಲೆಕ್ಟ್ರಾನ್ ವಿನ್ಯಾಸ  
 (C) ಪರಮಾಣು ಗಾತ್ರ  
 (D) ಪರಮಾಣು ರಾಶಿ



18. ಕೆಳಗಿನವುಗಳಲ್ಲಿ ಉಭಯವರ್ತಿ ಆಕ್ಸೈಡ್‌ಗಳಿರುವ ಒಂದು ಗುಂಪು

- (A) ಸೋಡಿಯಂ ಆಕ್ಸೈಡ್ ಮತ್ತು ತಾಮ್ರದ ಆಕ್ಸೈಡ್  
 (B) ಅಲ್ಯುಮಿನಿಯಂ ಆಕ್ಸೈಡ್ ಮತ್ತು ಸತುವಿನ ಆಕ್ಸೈಡ್  
 (C) ಅಲ್ಯುಮಿನಿಯಂ ಆಕ್ಸೈಡ್ ಮತ್ತು ಸೋಡಿಯಂ ಆಕ್ಸೈಡ್  
 (D) ಸತುವಿನ ಆಕ್ಸೈಡ್ ಮತ್ತು ತಾಮ್ರದ ಆಕ್ಸೈಡ್



## VIII. ಈ ಕೆಳಗಿನ ಪ್ರಶ್ನೆಗಳಿಗೆ ಉತ್ತರಿಸಿ :

4 × 1 = 4

19. 'ಪೆಂಟೇನ್ಯಾಲ್' ನಲ್ಲಿರುವ ಕ್ರಿಯಾಗುಂಪು ಯಾವುದು ?

20. ವಸ್ತುಗಳ ಆಮ್ಲೀಯ ಮತ್ತು ಪ್ರತ್ಯಾಮ್ಲೀಯ ಸ್ವಭಾವಗಳಿಗೆ ಕಾರಣವಾದ ಅಯಾನುಗಳನ್ನು ಹೆಸರಿಸಿ.



21. ಸೈಕ್ಲೋಹೆಕ್ಸೇನ್‌ನ ರಚನಾ ಸೂತ್ರ ಬರೆಯಿರಿ.

22. ಅಯಾನಿಕ್ ಸಂಯುಕ್ತಗಳು ಹೆಚ್ಚಿನ ಕರಗುವ ಬಿಂದು ಮತ್ತು ಕುದಿಬಿಂದುಗಳನ್ನು ಹೊಂದಿವೆ. ಏಕೆ ?

## IX. ಈ ಕೆಳಗಿನ ಪ್ರಶ್ನೆಗಳಿಗೆ ಉತ್ತರಿಸಿ :

6 × 2 = 12



23. ಒಂದು ಅನುರೂಪ ಶ್ರೇಣಿಯಲ್ಲಿರುವ ಹೈಡ್ರೋಕಾರ್ಬನ್‌ಗಳ ಗುಂಪಿನ ಮೊದಲ ಸದಸ್ಯನ ಅಣುಸೂತ್ರ  $CH_4$  ಆದರೆ, ನಾಲ್ಕನೇ ಸದಸ್ಯನ ಅಣುಸೂತ್ರ ಕಂಡುಹಿಡಿದು ಅದರ ಎರಡು ರೀತಿಯ ರಚನಾ ವಿನ್ಯಾಸಗಳನ್ನು ಬರೆಯಿರಿ.

24. ಕುಟ್ಟಿತೆ ಎಂದರೇನು ? ಅತಿ ಹೆಚ್ಚು ಕುಟ್ಟು ಗುಣ ಹೊಂದಿರುವ ಎರಡು ಲೋಹಗಳನ್ನು ಹೆಸರಿಸಿ.

ಅಥವಾ



a) ಲೋಹಗಳ ಶಾಬ್ದನ ಗುಣ ಎಂದರೇನು ?



b) ಉತ್ತಮ ಉಷ್ಣವಾಹಕಗಳಾದ ಎರಡು ಲೋಹಗಳನ್ನು ಹೆಸರಿಸಿ.

25. ಸೀಮೆಎಣ್ಣೆಯಲ್ಲಿ ಸಂಗ್ರಹಿಸಿಟ್ಟಂತಹ ಒಂದು ಲೋಹವನ್ನು ನೀರಿನಲ್ಲಿ ಹಾಕಿದಾಗ ಉತ್ಪತ್ತಿಯಾಗುವ ಅನಿಲವು ಹೊತ್ತಿಕೊಂಡು ಉರಿಯುತ್ತದೆ.

i) ಆ ಲೋಹವು ಯಾವುದು ?

ii) ಬಿಡುಗಡೆಯಾಗುವ ಅನಿಲ ಯಾವುದು ?



iii) ಬಿಡುಗಡೆಯಾದ ಅನಿಲ ತಕ್ಷಣ ಹೊತ್ತಿಕೊಂಡು ಉರಿಯುತ್ತದೆ. ಏಕೆ ?

26. ನೀರಿನಲ್ಲಿ ಅಮ್ಲೀಯ ದ್ರಾವಣವು ವಿದ್ಯುತ್ ಪ್ರವಹಿಸುವ ಉಪಕರಣಗಳ ಜೋಡಣೆಯ ಚಿತ್ರವನ್ನು ಬರೆಯಿರಿ.

27. a) ಇರುವೆ ಕಡಿತದಿಂದ ನೋವು ಮತ್ತು ಉರಿಗೆ ಕಾರಣವಾಗುವ ಆಮ್ಲವನ್ನು ಹೆಸರಿಸಿ.

b) ಆಮ್ಲ ಮಳೆಯ pH ಮೌಲ್ಯ ಎಷ್ಟು ?



28. ಕೆಟನೀಕರಣ ಎಂದರೇನು ? ಅದರ ಮೂರು ವಿಧಗಳನ್ನು ತಿಳಿಸಿ.

X. ಈ ಕೆಳಗಿನ ಪ್ರಶ್ನೆಗಳಿಗೆ ಉತ್ತರಿಸಿ :

3 × 3 = 9

29. ಲೋಹದ ಮೇಲೆ ಹಬೆಯ ವರ್ತನೆಯನ್ನು ತೋರಿಸಲು ಉಪಯೋಗಿಸುವ ಉಪಕರಣಗಳ ಜೋಡಣೆಯ ಚಿತ್ರವನ್ನು ಬರೆದು, ಕೆಳಗಿನ ಭಾಗಗಳನ್ನು ಗುರುತಿಸಿ :

i) ಲೋಹದ ಚೂರು



ii) ನಿರ್ಗಮನ ನಾಳ

30. ಕೆಳಗಿನ ಕೋಷ್ಟಕದಲ್ಲಿ ಧಾತುಗಳನ್ನು ಅವುಗಳ ಪರಮಾಣುರಾಶಿಗಳ ಏರಿಕೆ ಕ್ರಮದಲ್ಲಿ ಜೋಡಿಸಲಾಗಿದೆ. ಅದನ್ನು ಗಮನಿಸಿ ಮತ್ತು ಕೆಳಗೆ ನೀಡಿರುವ ಪ್ರಶ್ನೆಗಳಿಗೆ ಉತ್ತರಿಸಿ :

ಸ	ರಿ	ಗ	ಮ	ಪ	ದ	ನಿ		
H	Li	Be	B	C	N	O	F	Na

i) ಒಂದೇ ಗುಂಪಿಗೆ ಸೇರುವ ಧಾತುಗಳನ್ನು ಹೆಸರಿಸಿ.

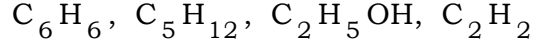


ii) ಈ ಧಾತುಗಳನ್ನು ಗುಂಪುಗಳನ್ನಾಗಿಸಲು ಸಹಾಯಕವಾದ ನಿಯಮವನ್ನು ನಿರೂಪಿಸಿ.



iii) ಅದೇ ನಿಯಮದ ಎರಡು ಇತಿಮಿತಿಗಳನ್ನು ಬರೆಯಿರಿ.

31. a) ಕೆಳಗಿನ ಕಾರ್ಬನ್ ಸಂಯುಕ್ತಗಳಲ್ಲಿ ಅಪರ್ಯಾಪ್ತ ಹೈಡ್ರೋಕಾರ್ಬನ್‌ಗಳನ್ನು ಗುರುತಿಸಿ ಮತ್ತು ಅವುಗಳ ರಚನಾ ವಿನ್ಯಾಸವನ್ನು ಬರೆಯಿರಿ :



- b) ಸಹವೇಲೆನ್ಸೀಯ ಸಂಯುಕ್ತಗಳು ಸಾಮಾನ್ಯವಾಗಿ ವಿದ್ಯುತ್ತಿನ ದುರ್ಬಲ ವಾಹಕಗಳಾಗಿವೆ. ಕಾರಣವನ್ನು ತಿಳಿಸಿ.

### ಅಥವಾ

- a) ಆಕ್ಸಿಜನ್ ಅಣುವಿನ ಇಲೆಕ್ಟ್ರಾನ್ ಚುಕ್ಕೆ ರಚನೆಯನ್ನು ಬರೆಯಿರಿ.
- b) ಕಾರ್ಬನ್ ಪರಮಾಣುವು  $C^{4-}$  ಆನಯಾನನ್ನು ಮತ್ತು  $C^{4+}$  ಕ್ಯಾಟಯಾನನ್ನು ಉಂಟುಮಾಡುವುದಿಲ್ಲ. ಏಕೆ ?

XI. ಈ ಕೆಳಗಿನ ಪ್ರಶ್ನೆಗೆ ಉತ್ತರಿಸಿ :



1 × 4 = 4

32. a) ಒಂದು ಪ್ರಬಲ ಆಮ್ಲವನ್ನು ನೀರಿನಲ್ಲಿ ವಿಲೀನಗೊಳಿಸುವಾಗ ಯಾವ ವಿಧಾನವನ್ನು ಅನುಸರಿಸಬೇಕು ಮತ್ತು ಏಕೆ ?

- b) ಪ್ರಬಲ ಸೋಡಿಯಂ ಹೈಡ್ರಾಕ್ಸೈಡ್ ದ್ರಾವಣವನ್ನು ಪ್ರಬಲ ಹೈಡ್ರೋಕ್ಲೋರಿಕ್ ಆಮ್ಲದ ದ್ರಾವಣಕ್ಕೆ ಸೇರಿಸಲಾಗಿದೆ. ಇಲ್ಲಿ ಉಂಟಾದ ಲವಣ ದ್ರಾವಣದ ಸ್ವಭಾವವೇನು ? ಈ ಕ್ರಿಯೆಗೆ ಸರಿದೂಗಿಸಿದ ರಾಸಾಯನಿಕ ಸಮೀಕರಣವನ್ನು ಬರೆಯಿರಿ.



## ಭಾಗ - C

( ಜೀವ ವಿಜ್ಞಾನ )

XII. ಕೆಳಗಿನ ಪ್ರಶ್ನೆಗಳಿಗೆ ಅಥವಾ ಅಪೂರ್ಣ ಹೇಳಿಕೆಗಳಿಗೆ ನಾಲ್ಕು ಪರ್ಯಾಯ ಉತ್ತರಗಳನ್ನು ನೀಡಲಾಗಿದೆ. ಅವುಗಳಲ್ಲಿ ಸೂಕ್ತವಾದ ಒಂದು ಉತ್ತರವನ್ನು ಆರಿಸಿ, ಅದರ ಕ್ರಮಾಕ್ಷರದೊಡನೆ ಪೂರ್ಣ ಉತ್ತರವನ್ನು ಬರೆಯಿರಿ :



2 × 1 = 2

33. ಕೆಳಗಿನವುಗಳಲ್ಲಿ ಜೈವಿಕ ವಿಘಟನೆಗೆ ಒಳಗಾಗುವ ವಸ್ತುಗಳನ್ನು ಮಾತ್ರ ಹೊಂದಿರುವ ಗುಂಪು,

(A) ಸಗಣೆ, ಕಾಗದ, ಕೊಳೆತ ಹಣ್ಣು

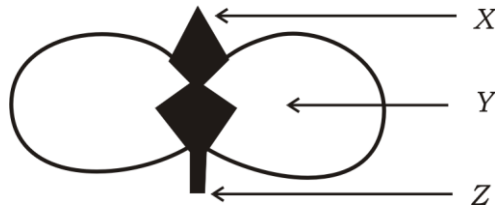
(B) ಕಾಗದ, ಪ್ಲಾಸ್ಟಿಕ್, ಚರ್ಮದ ಚೀಲ

(C) ತರಕಾರಿ ಸಿಪ್ಪೆಗಳು, ಹುಲ್ಲು, ಗಾಜಿನ ಬಾಟಲಿ



(D) ಮಾಂಸ, ಪ್ಲಾಸ್ಟಿಕ್ ತಟ್ಟೆ, ಪೇಪರ್ ಲೋಟ

34. ಕೊಟ್ಟಿರುವ ಬೀಜದಳದ ಚಿತ್ರದಲ್ಲಿ ಪ್ರಥಮ ಕಾಂಡ ಮತ್ತು ಪ್ರಥಮ ಮೂಲಗಳು ಕ್ರಮವಾಗಿ,



(A) Z ಮತ್ತು X

(B) Y ಮತ್ತು X



(C) X ಮತ್ತು Z

(D) Z ಮತ್ತು Y

**XIII. ಈ ಕೆಳಗಿನ ಪ್ರಶ್ನೆಗಳಿಗೆ ಉತ್ತರಿಸಿ :****2 × 1 = 2**

35. ಪರಿಸರದಲ್ಲಿ ಸಾವಯವ ತ್ಯಾಜ್ಯವಸ್ತುಗಳನ್ನು ವಿಭಜನೆಗೊಳಿಸುವ ಸೂಕ್ಷ್ಮಾಣುಜೀವಿಗಳನ್ನು ಹೆಸರಿಸಿ.



36. ಆಧುನಿಕ ಜೀವನಶೈಲಿಯು ಪರಿಸರದಲ್ಲಿ ತ್ಯಾಜ್ಯವಸ್ತುಗಳ ಸಂಗ್ರಹ ಹೆಚ್ಚಾಗಲು ಕಾರಣವಾಗಿದೆ. ಹೇಗೆ ?

**XIV. ಈ ಕೆಳಗಿನ ಪ್ರಶ್ನೆಗಳಿಗೆ ಉತ್ತರಿಸಿ :****7 × 2 = 14**

37. ಓರ್ಯೋನ್ ಎಂದರೇನು ? ಓರ್ಯೋನ್ ಪ್ರಮಾಣದ ಕುಸಿತಕ್ಕೆ ಕಾರಣವಾದ ರಾಸಾಯನಿಕ ಯಾವುದು ?

38. ನೆಫ್ರಾನ್‌ನ ರಚನೆಯನ್ನು ತೋರಿಸುವ ಚಿತ್ರವನ್ನು ಬರೆಯಿರಿ ಮತ್ತು 'ಗ್ಲಾಮರುಲಸ್' ಅನ್ನು ಗುರುತಿಸಿ.



39. 'A' ವಿದ್ಯಾರ್ಥಿಯು ಪಕ್ಷಿಯ ರೆಕ್ಕೆ ಮತ್ತು ಮಾನವನ ಕೈ ಇವುಗಳೆರಡೂ ಕಾರ್ಯಾನುರೂಪಿ ಅಂಗಗಳಾಗಿವೆ ಎಂದು ವಿದ್ಯಾರ್ಥಿ 'B' ಗೆ ಹೇಳುತ್ತಾನೆ. ಅದಕ್ಕೆ 'B' ವಿದ್ಯಾರ್ಥಿಯು ಅವುಗಳೆರಡೂ ರಚನಾನುರೂಪಿ ಅಂಗಗಳು ಎಂದು ಹೇಳುತ್ತಾನೆ. ಯಾರ ಉತ್ತರವು ಸರಿಯಾಗಿದೆ ? ಸೂಕ್ತ ಕಾರಣಗಳೊಂದಿಗೆ ನಿಮ್ಮ ಉತ್ತರವನ್ನು ಸಮರ್ಥಿಸಿ.

40. ರಕ್ತ ಮತ್ತು ದುಗ್ಧರಸಗಳ ನಡುವಿನ ವ್ಯತ್ಯಾಸಗಳೇನು ?

41. ಶಲಾಕಾಗ್ರದ ಮೇಲೆ ಪರಾಗದ ಮೊಳೆಯುವಿಕೆಯನ್ನು ತೋರಿಸುವ ಚಿತ್ರವನ್ನು ಬರೆಯಿರಿ.

42. ಮಾನವರಲ್ಲಿ ಮಗುವಿನ ಲಿಂಗವು ಹೇಗೆ ನಿರ್ಧರಣೆಯಾಗುತ್ತದೆ ?

43. a) ಆಹಾರದಲ್ಲಿ ಅಯೋಡಿನ್ ಸಮೃದ್ಧವಾದ ಉಪ್ಪನ್ನು ಸೇವಿಸುವುದರಿಂದ ಉತ್ಪತ್ತಿಯಾಗುವ ಹಾರ್ಮೋನ್ ಯಾವುದು ? ಈ ಹಾರ್ಮೋನ್‌ನ್ನು ಸ್ರವಿಸುವ ಗ್ರಂಥಿಯನ್ನು ತಿಳಿಸಿ.



b) ಆಹಾರದಲ್ಲಿ ಅಯೋಡಿನ್ ಕೊರತೆ ಉಂಟಾದರೆ ಯಾವ ರೋಗ ಉಂಟಾಗುತ್ತದೆ ? ಈ ರೋಗದ ಒಂದು ಲಕ್ಷಣ ಬರೆಯಿರಿ.

## XV. ಈ ಕೆಳಗಿನ ಪ್ರಶ್ನೆಗಳಿಗೆ ಉತ್ತರಿಸಿ :

3 × 3 = 9

44. ಮಾನವನ ಮಿದುಳಿನ ರಚನೆಯನ್ನು ತೋರಿಸುವ ಚಿತ್ರವನ್ನು ಬರೆಯಿರಿ. ಕೆಳಗಿನ ಭಾಗಗಳನ್ನು ಗುರುತಿಸಿ :



i) ಮಧ್ಯಮಿದುಳು

ii) ಪಾನ್ಸ್

45. ದುಂಡನೆಯ, ಹಸಿರು ಬಣ್ಣದ ಬೀಜಗಳನ್ನು ಉತ್ಪಾದಿಸುವ ಬಟಾಣಿ ಸಸ್ಯವನ್ನು ( RR yy ), ಸುಕ್ಕಾದ, ಹಳದಿ ಬಣ್ಣದ ಬೀಜಗಳನ್ನು ಉತ್ಪಾದಿಸುವ ಬಟಾಣಿ ಸಸ್ಯದೊಂದಿಗೆ ( rr YY ) ಸಂಕರಣಗೊಳಿಸಿದೆ. F<sub>2</sub> ಪೀಳಿಗೆಯ ಫಲಿತಾಂಶವನ್ನು ಚಕ್ರ ಬೋರ್ಡ್‌ನ ಸಹಾಯದಿಂದ ವ್ಯಕ್ತಪಡಿಸಿ ಮತ್ತು ಸಸ್ಯಗಳ ವಿಧಗಳ ಅನುಪಾತವನ್ನು ತಿಳಿಸಿ.

ಅಥವಾ



ಜೀವಿಗಳಲ್ಲಿನ ಗುಣಗಳನ್ನು 'ಪ್ರಬಲ' ಹಾಗೂ 'ದುರ್ಬಲ' ಗುಣಗಳೆಂದು ಹೇಗೆ ವರ್ಗೀಕರಿಸಲಾಗುತ್ತದೆ ? ಒಂದು ಜೀವಿಯು ತನ್ನ ಜೀವಿತಾವಧಿಯಲ್ಲಿ ಗಳಿಸಿದ ಅನುಭವಗಳನ್ನು ಅದರ ಸಂತತಿಗೆ ವರ್ಗಾಯಿಸಲು ಸಾಧ್ಯವಿಲ್ಲ. ಏಕೆ ?

46. "ಮನುಷ್ಯರಂತಹ ಸ್ತನಿಗಳಿಗೆ ಸಂಬಂಧಿಸಿದಂತೆ ಲೈಂಗಿಕ ಪರಿಪಕ್ವತೆಯನ್ನು ತಲುಪುವುದು ಒಂದು ಅಗತ್ಯ ಘಟನೆ ಆಗಿದೆ." ಈ ಹೇಳಿಕೆಯನ್ನು ಪುಷ್ಟೀಕರಿಸಿ.

## XVI. ಈ ಕೆಳಗಿನ ಪ್ರಶ್ನೆಗಳಿಗೆ ಉತ್ತರಿಸಿ :

2 × 4 = 8

47. a) ಬಳ್ಳಿ ಸಸ್ಯವೊಂದು ಬೆಳೆದಂತೆ ನಿರ್ದಿಷ್ಟ ದಿಕ್ಕಿನ ಕಡೆಗೆ ಅದು ಚಲಿಸುತ್ತಿರುವಂತೆ ಕಾಣುತ್ತದೆ. ಹೇಗೆ ?



b) ಪ್ರಾಣಿಗಳಲ್ಲಿ ರಾಸಾಯನಿಕ ಸಂವಹನದ ಅಗತ್ಯವನ್ನು ವಿವರಿಸಿ.

48. a) ಕೆಲವು ಅಂಗಾಂಶದ ಕಾರ್ಯಗಳನ್ನು ಪ್ಲೋಯಂ ಅಂಗಾಂಶದ ಕಾರ್ಯಗಳೊಂದಿಗೆ ಹೋಲಿಸಿ.



b) ಸಸ್ಯಗಳಲ್ಲಿಯ ವಿವಿಧ ಅಂಗಾಂಶಗಳನ್ನು ವಿವರಿಸಿ.



ಅಥವಾ

a) ಆಕ್ಸಿಜನ್ ಸಹಿತ ರಕ್ತ ಮತ್ತು ಆಕ್ಸಿಜನ್ ರಹಿತ ರಕ್ತದ ಸಾಂದ್ರತೆಗೆ ಮಾನವನ ಹೃದಯದ ರಚನೆಯು ಹೇಗೆ ಸಹಾಯಕವಾಗಿದೆ ? ವಿವರಿಸಿ.

b) ಹೃದಯದಲ್ಲಿ ಹೃತ್ಪುಷ್ಕಿಗಳ ಭಿತ್ತಿಯು ದಪ್ಪವಾಗಿದೆ. ಏಕೆ ? ರಕ್ತನಾಳಗಳಲ್ಲಿ ರಕ್ತ ಸೂರಿಕೆಯು ಹೇಗೆ ತಡೆಗಟ್ಟಲ್ಪಡುತ್ತದೆ ?



=====

**83-K**

16

**CCE-PR/NSR & NSPR**

**CCE-PR/NSR & NSPR-D(813)4109**

**2**