

- I. பின்வரும் வினாக்கள்/மற்றும் முழுமைப்பெறாத கூற்றுகளுக்கு நான்கு மாற்று விடைகள் தரப்பட்டுள்ளன. சரியான விடையைத் தேர்ந்தெடுத்து அவ்விடையினை அதற்கென தரப்பட்டுள்ள இடத்தில் விடைக் குறியீட்டு எழுத்துடன் முழுவதுமாக எழுத வேண்டும் :



8 × 1 = 8

1. ஆங்கில பேரரசுடன் பஞ்சாபை இணைத்தவர்

- (A) டல்ஹௌசி
 (B) வெல்லெஸ்லி
 (C) ராபர்ட் கிளைவ்
 (D) காரன்வாலிஸ்



2. ஆர்ய சமাজத்தை நிறுவியவர்

- (A) அன்னிபெசன்ட்
 (B) ஜோதிபா பூலே
 (C) இராஜாராம் மோகன் ராய்
 (D) தயானந்த சரஸ்வதி



3. தீபகற்ப பீடபூமியில் பெரும் அளவு பகுதியில் உள்ள மண் வகை

(A) கருப்பு மண்



(B) செம்மண்

(C) வண்டல் மண்

(D) பாலைவன மண்



4. பொருளாதார வளர்ச்சி என்பது ஒரு செயல்முறையாகும், இதன் மூலம் ஒரு பொருளாதாரத்தின் உண்மையான தேசிய வருமானத்தின் நீண்டகால அதிகரிப்பு ஆகும் எனக்கூறியவர்

(A) காலின் கிளார்க்

(B) அமர்த்தியா சென்

(C) பால்டுவின்



(D) மஹபூப்-உல்-ஹக்



5. “ரெகர் மண்” என்று அழைக்கப்படும் மண் எது ?



- (A) செம்மண்
- (B) கரிசல் மண்
- (C) வண்டல் மண்
- (D) பாலைவன மண்

6. ‘குழந்தைகள் உதவி’ எண்

(A) 1089



(B) 1098

(C) 101

(D) 108

7. ஐ.நா. சபையில் மனித உரிமைகளை பிரகடனம் செய்த ஆண்டு

(A) 1947

(B) 1945

(C) 2007

(D) 1948



8. ஒவ்வொரு ஆண்டும் உலக நுகர்வோர் தினம் கொண்டாடப்படும்

நாள்



(A) மார்ச் 15

(B) டிசம்பர் 10

(C) ஜூலை 11

(D) ஜூன் 5



II. பின்வரும் வினாக்களுக்கு ஒரு வாக்கியத்தில் விடையளிக்கவும் :



8 × 1 = 8

9. வெல்லெஸ்லி ஏன் தனது பதவியை ராஜினாமா செய்துவிட்டு

இங்கிலாந்து திரும்பினார் ?

10. வங்க பிரிவினையை உருவாக்கியவர் யார் ?



11. பஞ்சசீலக் கொள்கைகளில் கையெழுத்திட்ட இந்தியப் பிரதமரின்

பெயரை எழுதுக ?

12. சமுதாய படிநிலைமுறை என்றால் என்ன ?



13. எந்த அரசியலமைப்பு சட்டத் திருத்தம் பஞ்சாயத்து ராஜ் நிறுவனங்களை நிறுவியது ?

14. கிணற்று நீர் பாசனம் மிக முக்கியமான பாசன வகையாகும் ஏன் ?

15. அதிகாரம் பகிர்ந்தளித்தல் என்றால் என்ன ?



16. சமீக காலமாக டெலி ஷாப்பிங் பிரபலமாகிவிட்டது ஏன் ?

III. பின்வரும் வினாக்களுக்கு இரண்டிலிருந்து நான்கு வாக்கியங்கள்

வரை விடையளிக்கவும் :

8 × 2 = 16

17. இந்தியாவில் எழுத்தறிவை அதிகரிக்க அரசாங்கம் எவ்வாறு முயற்சி செய்கிறது ?

அல்லது



உலக அமைதிக்கு பஞ்சசீலக் கொள்கைகள் எவ்வாறு உதவுகின்றன ?

18. சமுதாய படிநிலை முறை எவ்வாறு உலகளாவியது ?

அல்லது



கலவரத்தை எவ்வாறு கட்டுப்படுத்தலாம் ?

19. ஜூனாகட் இந்திய ஒன்றியத்துடன் எவ்வாறு இணைக்கப்பட்டது ?

20. “ஆங்கிலேய ஆட்சியின் போது இந்திய இராணுவம் ஆங்கில நிர்வாகத்தின் அடித் தளமாக இருந்தது”. நியாயப்படுத்து.

21. “இந்திய விவசாயம் பருவமழையுடனான சூதாட்டம்”
எவ்வாறு ?



22. “சமீப ஆண்டுகளாக காட்டுப்பகுதிகள் குறைந்து வருகிறது”.
ஏன் ?

23. பெண்கள் சுயஉதவி குழுக்கள் பெண்களை மேம்படுத்துவதற்கு
உதவி புரிகின்றன. நியாயப்படுத்துக.



24. அஞ்சல் அலுவலகங்கள் பணம் சேமிப்பதற்கு எவ்வாறு
உதவுகின்றன ?

IV. பின்வரும் வினாக்களுக்கு ஆறு வாக்கியங்களில் விடையளிக்கவும் :

9 × 3 = 27

25. வங்கிகள் வாடிக்கையாளருக்கு ஆற்றும் சேவைகள் யாவை ?

அல்லது



நுகர்வோர் பாதுகாப்புச் சட்டம் நுகர்வோருக்கு எவ்வாறு உதவிகரமாக உள்ளது ?

26. வாரன்ஹேஸ்டிங்ஸ் நடைமுறைப்படுத்திய நீதித்துறை முறையை விளக்குக.



அல்லது

இந்திய சுதந்திரப் போராட்டத்தில் புரட்சியாளர்களின் போராட்ட முறைகள் எப்படி வேறுபட்டிருந்தது ?

27. ஒரு நாட்டின் பொருளாதார வளர்ச்சியில் போக்குவரத்து எவ்வாறு

முக்கிய பங்கு வகிக்கிறது ?



அல்லது

இந்தியாவில் தொழிற்சாலைகளின் இடஅமைப்பின் தாக்கத்தை

தீர்மானிக்கும் காரணிகள் யாவை ?



28. பொது நிதியின் முக்கியத்துவத்தை விளக்கவும்.

அல்லது

கிராமப்புற வளர்ச்சிக்கு தேவையான நடவடிக்கைகள்

என்ன ?




29. “கித்தூர் கிளர்ச்சியில் சங்கொள்ளி ராயண்ணா முக்கிய பங்கு வகித்தார்”. நியாயப்படுத்துக.

30. “அன்னிபெசன்ட் அம்மையார் பிரம்மஞானசபையின் செயல்பாடுகளுக்கு புத்துயிர் அளித்தார்” நியாயப்படுத்தவும்.

31. “ஆரம்பகாலத்திலிருந்தே ரஷ்யாவுடன் இந்தியா நல்லுறவைக் கொண்டுள்ளது” விளக்கவும்.



32. “முறைப்படுத்தப்படாத தொழிலாளர்கள் அதிக சிக்கல்களை எதிர்கொள்கின்றனர்” எவ்வாறு ? 

33. பாலைவன காடுகளிலிருந்து பசுமைமாறா காடுகள் எவ்வாறு வேறுபடுகின்றன ?

V. பின்வரும் வினாக்களுக்கு எட்டு வாக்கியங்களில் விடையளிக்கவும் :

4 × 4 = 16


34. ஜாலியன் வாலாபாக் படுகொலையை விளக்கவும்.



அல்லது

இந்தியாவில் ஆங்கிலேய கல்வி முறையின் தாக்கத்தை விளக்கவும்.

35. முதல் இந்திய சுதந்திரப் போர் தோல்வியடைந்தது. ஏன் ?

36. “அண்மைகாலமாக இந்தியாவில் பெண்களின் நிலை மேம்பட்டு வருகிறது” நியாயப்படுத்தவும். 

37. “புயல் காற்றுகள் அபாயகரமானவை” நியாயப்படுத்தவும்.

VI. 38. இந்திய தரைப் (Outline) படத்தை வரைந்து

கீழ்க்காண்பவற்றைக் குறிக்கவும்.



1 + 4 = 5

- a) கொங்கன் கடற்கரை
- b) நர்மதை நதி
- c) விசாகப்பட்டணம்
- d) அமிர்தசரஸ்




பார்வைத் திறன் அற்றோர்க்கான வினா : (வினா எண் 38 க்கான மாற்று

வினா)



5

பல்நோக்கு நதி பள்ளத்தாக்கு திட்டங்களின் முக்கிய நோக்கங்களை குறிப்பிடுக.



DO NOT WRITE ANYTHING HERE